



คำสั่ง : เขียนคำตอบที่ถูกต้อง

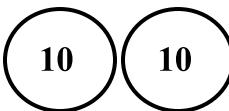
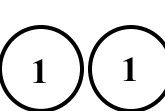

จำนวน 40 ข้อ เวลา 15 นาที








ตอนที่ 1 เลือกคำตอบที่ถูกต้อง โดยใส่ตัวเลข 1, 2, 3 หรือ 4 หน้าคำตอบ ลงในช่อง ( )

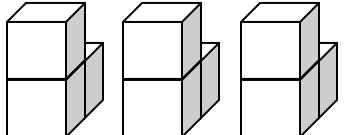
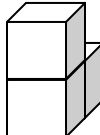
( ) ①  ① 11 ② 12 ③ 13

( ) ②  $18 - \square + 9 = 14$ ,  $\square = ?$  ① 12 ② 13 ③ 14



( ) ③   $\square$  ,  $\square = ?$  ① = ② > ③ <

( ) ④  มากกว่า   อยู่เท่าไร? ① 13 ② 17 ③ 27

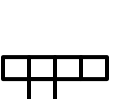
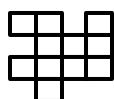
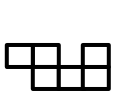
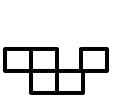
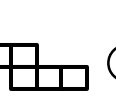
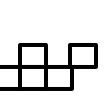
( ) ⑤        ภาพใดมากที่สุด? ①  ②  ③ 

( ) ⑥  - ,  $\square =$  ① 3 ② 6 ③ 9 ④ 10

( ) ⑦      , ลำดับที่ 4 จากขวา = ①  ②  ③  ④ 

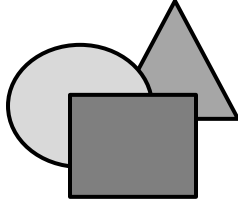










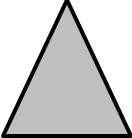








( ) ⑧ มี  ว่ายน้ำออกไป  และว่ายน้ำ

ออกไปอีก , เหลือ  กี่ตัว ① 5 ② 4 ③ 3 ④ 2

( ) ⑨  + ( ) = , ( ) = ①  ②  ③  ④ 

( ) ⑩  $45 \rightarrow \square \rightarrow 41 \rightarrow 39 \rightarrow 37$ ,  $\square =$  ① 44 ② 43 ③ 42 ④ 41

ตอนที่ 2 จงทำเครื่องหมาย ✓ ใน ( ) ของภาพที่อยู่ด้านหน้าสุด

<p>1</p> 	 <input type="checkbox"/>	 <input type="checkbox"/>	 <input type="checkbox"/>
<p>2</p> 	 <input type="checkbox"/>	 <input type="checkbox"/>	 <input type="checkbox"/>
<p>3</p> 	 <input type="checkbox"/>	 <input type="checkbox"/>	 <input type="checkbox"/>
<p>4</p> 	 <input type="checkbox"/>	 <input type="checkbox"/>	 <input type="checkbox"/>
<p>5</p> 	 <input type="checkbox"/>	 <input type="checkbox"/>	 <input type="checkbox"/>

จงโยงเส้นจับคู่ข้อที่มีคำตอบเท่ากัน

⑥

$4 + 12$

•

•

$18 - 1$

⑦

$11 - 6$

•

•

$9 + 7$

⑧

$8 + 9$

•

•

$14 - 5$

⑨

$3 + 12$

•

•

$13 - 8$

⑩

$10 - 1$


•

•

$20 - 5$


ตอนที่ 3 การคำนวณ เติมคำตอบลงในช่องว่าง

①



(      )

②



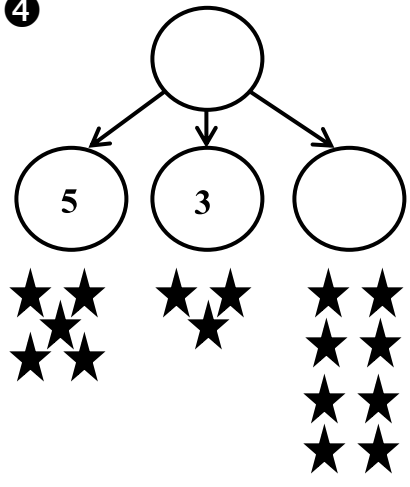
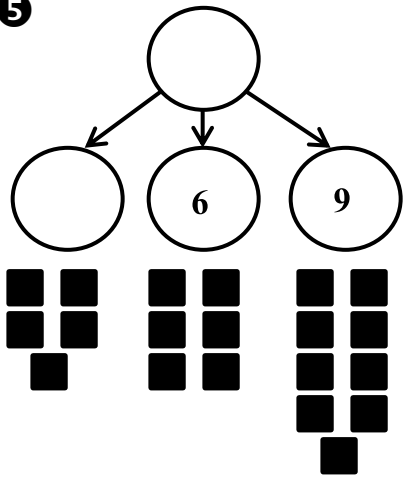
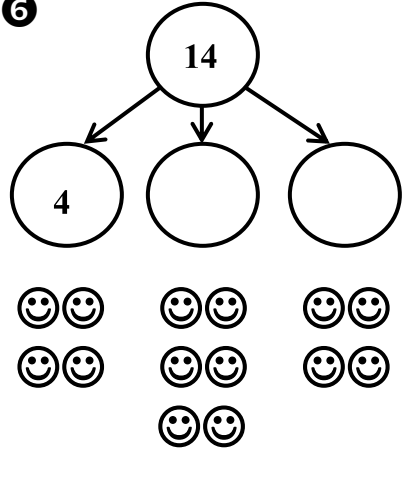
(      )

③

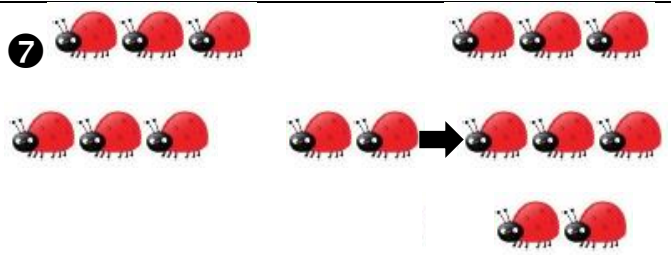
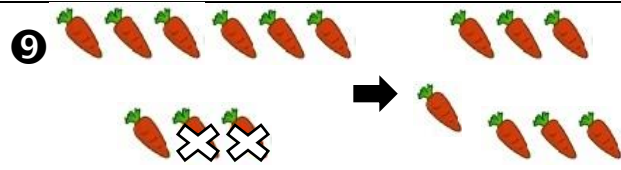
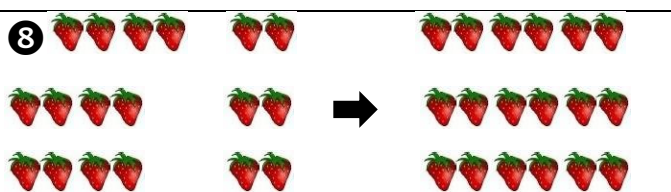
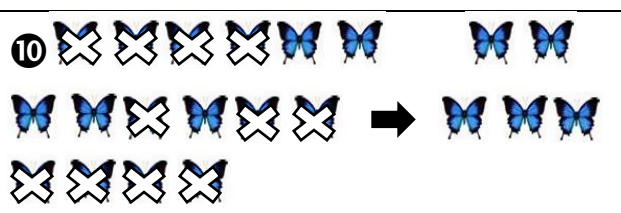


(      )

เติมคำตอบลงในวงกลม

<p><b>4</b></p> 	<p><b>5</b></p> 	<p><b>6</b></p> 
---	--	---

เขียนคำตอบจากภาพต่อไปนี้

<p><b>7</b></p>  <p><math>6 + 2 = \underline{\quad}</math></p>	<p><b>9</b></p>  <p><math>9 - 2 = \underline{\quad}</math></p>
<p><b>8</b></p>  <p><math>12 + 6 = \underline{\quad}</math></p>	<p><b>10</b></p>  <p><math>\underline{\quad} - 11 = 5</math></p>

ตอนที่ 4 การประยุกต์ เติมคำตอบลงในช่องว่าง

1 27 , 36 , 41 , 10 จำนวนที่เป็นเลขคี่ คือ \_\_\_\_\_ และ \_\_\_\_\_

2 กิน  7 ผล ยังเหลือ  12 ผล เดิมมี  กี่ผล ? \_\_\_\_\_ ผล

3 มี  8 หัว และ  15 หัว, มี  มากกว่า  กี่หัว ? \_\_\_\_\_ หัว








4 มี  20 ชิ้น ให้เพื่อน 11 ชิ้น, เหลือ  กี่ชิ้น ? \_\_\_\_\_ ชิ้น

5 มี  7 ตัว และ  13 ตัว, มี  น้อยกว่า  กี่ตัว ? \_\_\_\_\_ ตัว

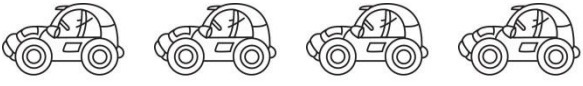

6 ที่บ้านเลี้ยง  4 ตัว ออกลูกเพิ่มอีก 7 ตัว มี  ตายไป 2 ตัว ตอนนี้เหลือ  กี่ตัว  
\_\_\_\_\_ ตัว

7  +  -  =  ,


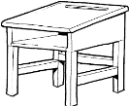
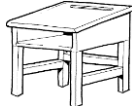
= \_\_\_\_\_

8 มี      ซื้อ  ราคา 13 บาท และซื้อ  18 บาท

เหลือเงินกี่บาท ? \_\_\_\_\_ บาท

9 มี  และ 

มีจำนวนล้อต่างกันกี่ล้อ ? \_\_\_\_\_ ล้อ

10 มี  34 ตัว มากกว่า  อยู่ 7 ตัว, มี  กี่ตัว ? \_\_\_\_\_ ตัว