



การแข่งขันคณิตศาสตร์

ข้อสอบวิชาคณิตศาสตร์ ระดับชั้นประถมศึกษาปีที่ 1

คำสั่ง : เขียนคำตอบที่ถูกต้องลงในกระดาษคำตอบ

จำนวน 40 ข้อ เวลา 15 นาที

ตอนที่ 1 จงกากบาทหับคำตอบที่ถูกต้อง จากตัวเลือก 1, 2, 3 หรือ 4 เพียงคำตอบเดียวใน
กระดาษคำตอบ

1) คำตอบของ $48 + 36$ ตัวเลขใดอยู่ในหลักสิบ

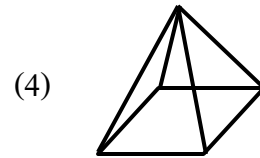

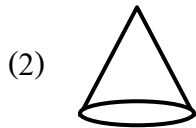
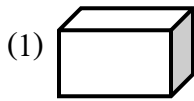
(1) 1

(2) 4

(3) 7

(4) 8

2) รูปทรงในข้อใด เคลื่อนที่ได้ง่ายที่สุด



3) $23 - \square = 16$, \square คือ จำนวนใด

(1) 8

(2) 7

(3) 6

(4) 5

4) นักเรียนยืนตรงเคารพธงชาติช่วงเช้า ในเวลาใด

(1) 6 นาฬิกา

(2) 8 นาฬิกา

(3) 12 นาฬิกา

(4) 16 นาฬิกา



การแข่งขันคณิตศาสตร์

ข้อสอบวิชาคณิตศาสตร์ ระดับชั้นประถมศึกษาปีที่ 1

- 5) บาท แลกเป็นเหรียญ บาท ได้กี่เหรียญ
- (1) 7 (2) 8 (3) 9 (4) 10
- 6) วันสงกรานต์ของไทย อยู่ในเดือนใดของทุกปี
- (1) มีนาคม (2) เมษายน
- (3) มิถุนายน (4) พฤษภาคม
- 7) ใน 1 สัปดาห์ มี 7 วัน แล้ว 3 สัปดาห์ มีกี่วัน
- (1) 10 (2) 14 (3) 21 (4) 11
- 8) $11 - 4 \square 7 = 0$ ควรเติมเครื่องหมายใดในช่องสี่เหลี่ยม
- (1) + (2) - (3) × (4) ÷
- 9) มินนี่เดินจากห้องเรียนไปห้องน้ำเป็นระยะทาง 34 เมตร ถ้าเดินไปกลับจะเป็นระยะทางทั้งหมดเท่าไร
- (1) 34 (2) 68 (3) 77 (4) 86



การแข่งขันคณิตศาสตร์

ข้อสอบวิชาคณิตศาสตร์ ระดับชั้นประถมศึกษาปีที่ 1

10) คำตอบในข้อใดแตกต่างจากข้ออื่น

(1) $23 + 37$

(2) $50 - 10$

(3) $18 + 22$

(4) $76 - 36$

ตอนที่ 2 เขียนคำตอบที่ถูกต้องในกระดาษคำตอบ

11) สามร้อยสี่ เขียนเป็นตัวเลขได้อย่างไร

12) เลข 2 หลักที่มีค่ามากที่สุด บวกกับเลข 1 หลักที่มีค่าน้อยที่สุด จะมีค่าเป็นเท่าไร

13) พลอยมีเงิน 38 บาท ต้องการซื้อตุ๊กตาราคา 79 บาท พลอยต้องหาเงินมาเพิ่มอีกกี่บาท

14) $(60 - 24) + 13 = \square$

15) ถ้า $A - 22 = B - 33$ อยากทราบว่า A หรือ B มีค่ามากกว่ากัน

16) $1 + 2 + 3 + 4 + 5 + 6 + 7 = \square$

17) ฟ้าได้เงินไปโรงเรียนวันละ 25 บาท ถ้าฟ้าไปโรงเรียน 5 วัน จะได้รับเงินทั้งหมดกี่บาท

18) กล่องใบแรกสูง 12 เซนติเมตร กล่องใบที่สองสูง 23 เซนติเมตร ถ้านำกล่องทั้งสองใบมาวางซ้อนกันจะมีความสูงเท่าไร

19)


1	→	3	→	8	→	10	→	15	→	?
---	---	---	---	---	---	----	---	----	---	---

?

 คือ เลขจำนวนใด

20) โต๊ะ 1 ตัว นั่งได้ 8 คน ถ้ามีโต๊ะ 4 ตัว จะนั่งได้กี่คน

21) จากรูป มีส้มทั้งหมดกี่ผล





การแข่งขันคณิตศาสตร์

ข้อสอบวิชาคณิตศาสตร์ ระดับชั้นประถมศึกษาปีที่ 1

22) แป้งมีเงิน 40 บาท ให้เงินน้อง 2 คน คนละ 12 บาท แป้งเหลือเงินกี่บาท

จงตอบคำถามข้อ 23 – 24

ตารางคะแนนสอบวิชาคณิตศาสตร์

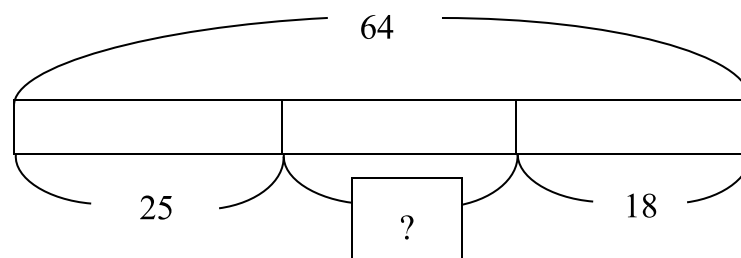

	นิด	น้อย	ก๊วก	เก่ง
คะแนนที่สอบได้	20	14	9	16


23) ใครสอบได้คะแนนน้อยที่สุด

24) คนที่สอบได้คะแนนมากที่สุด กับคนที่สอบได้คะแนนน้อยที่สุด ต่างกันกี่คะแนน

25) มีโดนัท 25 ชิ้น จัดใส่จาน จานละ 6 ชิ้น จะจัดใส่จานได้กี่ใบ และเหลือกี่ชิ้น

26) จงหาค่าของ





การแข่งขันคณิตศาสตร์

ข้อสอบวิชาคณิตศาสตร์ ระดับชั้นประถมศึกษาปีที่ 1

27) บัตรตัวเลข 4 ใบ ได้แก่

เมื่อนำมาเรียงเป็นเลขสองหลักที่มากที่สุด และเลขสองหลักที่น้อยที่สุด จะมีค่าต่างกันอยู่เท่าไร

28) แม่มีเงิน 100 บาท ซื้อมะม่วง 5 กิโลกรัม ราคา กิโลกรัมละ 13 บาท แม่จะเหลือเงินกี่บาท

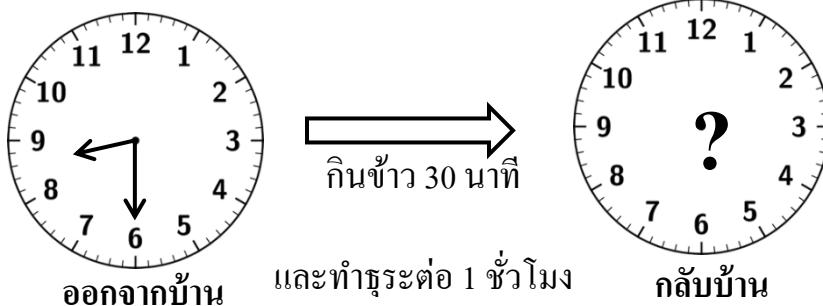
29) $66 + 18 =$

30) $100 - (34 + 26) =$

31) จำนวนที่มากกว่า 42 แต่น้อยกว่า 80 มีทั้งหมดกี่จำนวน

32) แม่ออกจากบ้าน เวลา 08.30 น. กินข้าวไป 30 นาที จากนั้นทำธุระต่ออีก 1 ชั่วโมง


จึงกลับบ้าน แม่จะกลับบ้านในเวลาใด



33) ดาวมีเหรียญ **10** จำนวน 8 เหรียญ ซื้อขนมปัง 26 บาท ซื้อน้ำแดง 1 ขวด

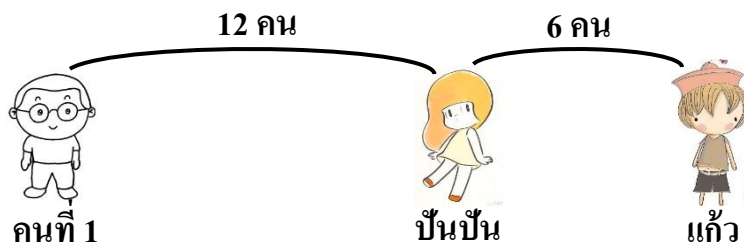
ราคา 14 บาท ดาวเหลือ **10** ก็เหรียญ

34) จากรูป สัตว์ชนิดใดมีน้ำหนักเบาที่สุด



35) ในการเข้าแถวซื้อตั๋วรถไฟ มีคนยืนอยู่หน้าบันบัน 12 คน แก้วยืนอยู่หลังบันบัน

และมีเด็ก 6 คน ยืนอยู่ระหว่างบันบันและแก้ว แก้วยืนอยู่ลำดับที่เท่าไรจากด้านหน้า





การแข่งขันคณิตศาสตร์

ข้อสอบวิชาคณิตศาสตร์ ระดับชั้นประถมศึกษาปีที่ 1

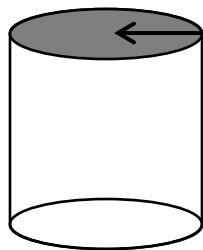
36) ปัจจุบันพ่อมีอายุ 38 ปี แม่อายุน้อยกว่าพ่อ 3 ปี

อยากทราบว่า อีก 5 ปีข้างหน้า แม่จะมีอายุกี่ปี

37) $(15 \times 3) + 6 = ?$

38) สิ่งโต 7 ตัว และไก่ 8 ตัว มีขารวมกันกี่ขา

39) จากรูปทรงกระบอก



ส่วนที่แรเงา เป็นรูปเรขาคณิตชนิดใด

40) $43 + 15 - \boxed{} = 33$